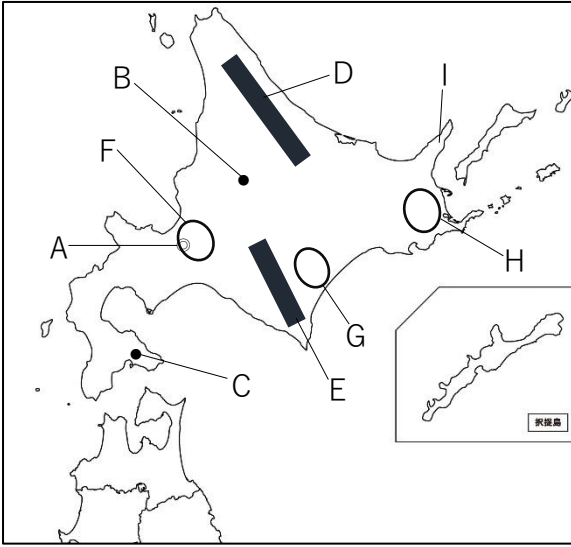


問題

地図

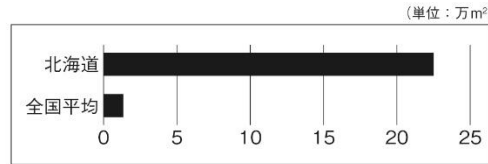
資料1



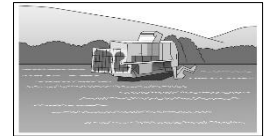
	生乳生産量 (万t)	生乳の用途別処理	
		牛乳向け (万 t)	乳製品向け (万 t)
全国	762	400	360
北海道	431	60	320
関東地方	150	137	13

※関東地方は生乳生産量ではなく処理量を記載している。  
(2022年 農林水産省「牛乳乳製品統計調査 2022年」より作成)

資料2 農家一戸当たりの耕地面積



資料3



資料4

道県名	漁獲される主な水産物
A	まぐろ、かつお、さんま、いわし、すずき、このしろ
B	たら、さけ、ほっけ、さんま、ほたて、こんぶ
C	ずわいがに、ふぐ、かれい、ぐじ、まはた、甘えび

- ① 県庁所在地がある地図中 A の都市を何というか。
- ② 北海道で2番目に人口が多く、北海道中部の中心都市でもある地図中 B の都市を何というか。
- ③ 北海道で3番目に人口が多く、道南地域の中心都市として発展してきた地図中 C の都市を何というか。
- ④ 北海道北東部をほぼ南北に走る地図中 D の山地を何というか。
- ⑤ 北海道の中央南部にある唯一の山脈である地図中 E の山脈を何というか。
- ⑥ 北海道の道央地方に位置する北海道最大の平野である地図中 F の平野を何というか。
- ⑦ 北海道東部の台地性の平野であり、畑作がさかんである地図中 G の平野を何というか。
- ⑧ 北海道の東部に広がり、酪農が盛んである地図中 H の台地を何というか。
- ⑨ 2005年に世界自然遺産にも登録された、オホーツク海に突き出ている地図中 I の半島を何というか。
- ⑩ 同じ耕地で異なる種類の作物を一定の順序で循環させて栽培することを何というか。
- ⑪ 北海道で栽培されている、砂糖の原料となる大根に似た工芸作物を何というか。
- ⑫ 自然環境や歴史文化を対象とし、それらを体験して学ぶとともに、対象となる地域の自然環境や歴史文化の保全に責任を持つ観光を何というか。
- ⑬ 資料1から、北海道の生乳の用途別処理の特徴を書きなさい。また、そのような特徴になる理由を、「大消費地」、「輸送費」の語句を使って書きなさい。
- ⑭ 北海道の農業の特徴を、資料2と資料3を参考にして書きなさい。
- ⑮ 資料4中のA～Cの中で、北海道の漁業を示すものを選びなさい。
- ⑯ 北海道でかつて盛んだった北洋漁業が衰退した理由を、「排他的経済水域」の語句を使って書きなさい。

①	②	③	④
⑤	⑥	⑦	⑧
⑨	⑩	⑪	⑫
⑬	特徴	理由	
⑭			
⑮		⑯	